

नेपाल नागरिक उड्डयन प्राधिकरण

प्रशासन सेवा, आर्थिक प्रशासन समूह, राजश्व उपसमूह, सातौं तह, बरिष्ठ अधिकृत पदको
नमूना प्रश्नपत्र

पत्र : प्रथम (वस्तुगत बहुउत्तर, $५० \times १ = ५०$)

समय : ४५ मिनेट

विषय : सामान्य ज्ञान, बौद्धिक परीक्षण, अंग्रेजी भाषा क्षमता परीक्षण

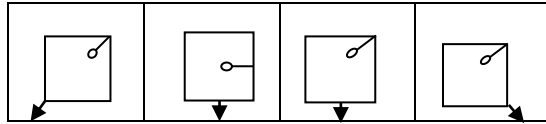
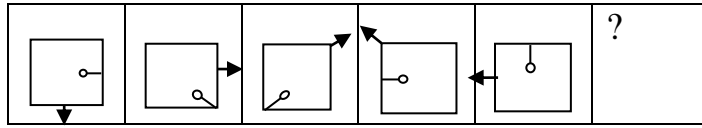
१. नेपालको राष्ट्रिय भण्डाको तल्लो भागमा हुने सेतो आकारको सूर्यमा कति वटा कोण हुन्छन् ?
A. ८ B. १० C. १२ D. १४
२. डायनोमो (Dynamo) ले के काम गर्छ ?
A. ताप उर्जालाई विद्युतिय उर्जामा बदल्छ
B. मेकानिकल उर्जालाई विद्युतिय उर्जामा बदल्छ
C. चुम्बकिय उर्जालाई विद्युतिय उर्जामा बदल्छ
D. केमिकल उर्जालाई विद्युतिय उर्जामा बदल्छ
३. व्यवस्थापिका संसदको निर्वाचनमा मतदान गर्न कति वर्ष पूरा भएको हुनुपर्दछ ?
A. १६ वर्ष B १८ वर्ष C २१ वर्ष D २५ वर्ष
४. इराकको पुरानो नाम के हो ?
A जन्जीवार B रोडेसिया C कम्पुचिया D मेसोपेटामिया
५. ओजन तह क्षयीकरण गर्न कुन ग्यासको भूमिका छ ?
A क्लोरोफोरोकार्बन B कार्बनमनो अक्साइड
C कार्बनडाइ अक्साइड D मर्कुरिक अक्साइड
६. फ्रिक्वन्सी के मा नापिन्छ ?
A एम्पायर B हर्ज B वेभ D हर्सपावर
७. प्रतिलिपि अधिकार सम्बन्धि कार्य जिम्मेवारी कुन मन्त्रालय अर्न्तगत पर्दछ ?
A भूमि सुधार तथा व्यवस्था मन्त्रालय B गृह मन्त्रालय
C शिक्षा मन्त्रालय D संस्कृति पर्यटन तथा नागरिक उड्डयन मन्त्रालय
८. राष्ट्रिय जनगणना २०६८ अनुसार नेपालको जनघनत्व (प्रति वर्ग कि.मी) कति छ ?
A १५७ जना B १८० जना
C २०१ जना D २११ जना
९. जुफाल विमानस्थल कुन जिल्लामा पर्छ ?
A डोल्पा B हुम्ला
C जाजरकोट D रुकुम
१०. Bay of Bangle initiative for Multi-sectoral Technical and Economic Co-operation (BIMSTEC) को सचिवालय कुन देशमा छ ?
A थाइल्याण्डको बैकक B भारतको मुम्बई
C बंगलादेशको ढाका D म्यानमारको याङ्गुन

- ११ पृथ्वीनारायण शाहको जन्म कहिले भएको थियो ?
 A वि.सं. १७८० पुस २७ B वि.सं. १७७९ पुस २७
 C वि.सं. १७९९ पुस २७ D वि.सं. १८०१ पुस २७
- १२ इश्वरपुर नगरपालिका कुन जिल्लामा पर्छ ?
 A धनुषा B सिन्धुली
 C सप्तरी D सर्लाही
- १३ रामसार महासन्धि कहिले देखि लागू भयो ?
 A १९७४ डिसेम्बर २१ B १९७५ डिसेम्बर २१
 C १९७६ डिसेम्बर २१ D १९७७ डिसेम्बर २१
- १४ नेपालको वर्तमान संविधानमा कतिवटा मौलिक हकहरुको व्यवस्था गरेको छ ?
 A २५ वटा B २७ वटा
 C २९ वटा D ३१ वटा
- १५ ललितपुरको खोकना देखि बाराको निजगढसम्मको फास्ट ट्रयाकको लम्बाई कति छ ?
 A ७५ किलोमिटर B ७६ किलोमिटर
 C ७७ किलोमिटर D ७८ किलोमिटर
- १६ नेपाल सरकारले वायु प्रदुषण नियन्त्रण गर्न सवारी साधनमा हाल कुन अन्तर्राष्ट्रिय मापदण्ड लागू गरेको छ ?
 A युरो १ B युरो २
 C युरो ३ D युरो ४
- १७ नेपाल अंग्रेज बिच ३ मार्च १८१६ मा सम्पन्न सुगौली सन्धीमा नेपालका तर्फबाट हस्ताक्षर गर्ने राजा को थिए ?
 A रण बहादुर शाह B गिर्वाण युद्ध विक्रम शाह
 C राजेन्द्र विक्रम शाह D सुरेन्द्र विक्रम शाह
- १८ SAARC Tourism YEAR कहिले मनाइएको थियो ?
 A सन् २००५ B सन् २००७
 C सन् २०११ D सन् २०१२
- १९ नेपाल ICAO को सदस्य कहिले देखि भएको हो ?
 A २९ जुलाई १९६० B २९ जुलाई १९६५
 C २९ जुलाई १९६६ D २९ जुलाई १९७५
- २० विक्रम बाबा पवित्र तीर्थस्थल कुन जिल्लामा पर्दछ ?
 A चितवन B रोल्पा
 C महोत्तरी D सुर्खेत
- २१ नेपालको पहिलो पञ्चवर्षिय योजनाको कुल खर्च गर्ने लक्ष्य कति थियो ?
 A २३ करोड B ३३ करोड
 C ३२ करोड D ६० करोड

- २२ ने.ना.उ.प्रा. कर्मचारीहरुको सेवाका शर्त र सुविधा सम्बन्धी नियमावली, २०५६ अनुसार आचरण सम्बन्धि कुरा बराबर उलंघन गरेमा के सजाय हुन्छ ?
 A चेतावनी दिने B नसिहत दिने
 C बहुवा रोक्का गर्ने D सेवाबाट हटाउने
- २३ बाह्रौं दक्षिण एशियाली खेल (साग २०१६, भारत) मा नेपालले कुन खेलमा पदक जितेको थिएन ?
 A तेक्वान्दो B फुटबल
 C जुडो D धनुवाण
- २४ ग्रेट हिमालयन ट्रेल के सँग सम्बन्धित छ ?
 A जडिबुटी निर्यात गर्न B रेलमार्ग
 C . पदमार्ग D हिम रेखाको समानान्तर रेखा
- २५ अख्तियार दुरुपयोग अनुसन्धान आयोगका पहिला प्रमुख आयुक्तको थिए ?
 A . राधारमण उपाध्याय B भगवति प्रसाद सिंह
 C . अनिरुद्र प्रसाद सिंह D सुर्यनाथ उपाध्याय
- २६ भारतसंग भएको कोशी सम्झौताको बेला नेपालमा को प्रधानमन्त्री थिए ?
 A . मोहन शमशेर B टंक प्रसाद आचार्य
 C . मातृका प्रसाद कोइराला D विश्वेश्वर प्रसाद कोइराला
- २७ नेपालमा पर्यटन मन्त्रालयको स्थापना कहिले भएको हो ?
 A . २०३३ फागुन १२ B २०३३ कार्तिक २२
 C . २०३३ पुस १४ D २०३३ माघ १
- २८ अन्तर्राष्ट्रिय नागरिक उड्डयन दिवस कहिले मनाइन्छ ?
 A . अक्टोबर २० B नोभेम्बर २१
 C . डिसेम्बर १ D डिसेम्बर ७
- २९ WIPO को प्रधान कार्यालय कहाँ छ ?
 A न्यूयोर्क, अमेरिका B भियना, अष्ट्रिया
 C टोकियो, जापान D जेनेभा, स्वीट्जरल्याण्ड
- ३० बाह्रौं दक्षिण एशियन खेल (साग २०१६, भारत) मा नेपालकी महिला खेलाडी कस्ले उसुमा स्वर्ण पदक जित्नु भएको थियो ?
 A फुपु लाम्हु शेर्पा B मनिता श्रेष्ठ प्रधान
 C लीला अधिकारी D नीमा घर्ती मगर
- 31 'Reading' is related to 'Knowledge' in the same way as 'Work' is related to :
 a. Money b. Engagement c. Employment d. Experience
- 32 In the following find out the alternative which will replace the question mark. Parts: Strap: Wolf:
 ?
- 33 If the TABLE is coded as UACMET in a certain language, then how is CAPSULE written in that code?
 a) BAORUKE b) DAQTUME c) BAQRUKE d) DAOTUME
- 34 Choose the word which is different from the rest.
 a) Anger b) Anxiety c) Feeling d) Joy

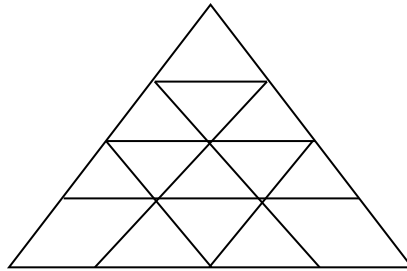
35 Find out the alternative which will replace the question mark.
 a) E b)N c) O d) T

36 Which figure should replace the question mark?



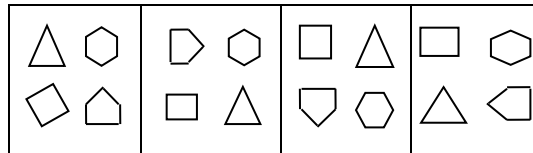
A B C D

37 What is the total number of triangles in the below grid?



A) 22 B) 23 C) 26 D) 27

38 Choose the figure which is different from the rest.



A B C D

39 What is missing number?

E	C	O
B	A	B
G	B	N
D	B	?

A) H B) T C) K D) E

40 Which is the correct image from the given four images?



A B C D

- 41 Which statement is closest to the main idea expressed in the first paragraph?
A. that there are varieties of oaks
B. that trees like oaks are family trees
C. most people think that there is only one types of oak
D. the best kind of oak is found in Spain
- 42 By giving example of a kind of oak found in Spain, the writer proves...
A. there is soft oaks
B. oaks can be useful
C. cork manufacturing industry depends on oaks
D. our thinking of oaks as a hard wood is wrong
- 43 All the statements below are true, except...
A. there are varieties of oaks
B. oaks primarily grow in Northern part of the earth
C. oaks have muscles like human beings
D. steel is used nowadays as building material for which oaks were used in the past
- 44 The sentence "If we had to invent a new kind of timber it would be hard to think up anything better" means...
A. We cannot invent a new kind of timber
B. It is hard to think about a new timber
C. It is hard to find a better timber than oak
D. It's time that we better think of a new timber than oak
- 45 The closest meaning of the word "giant" in paragraph 1 is.....
A. legendary huge humanlike beings
B. a powerful living being
C. a being who has history and legend
D. strong and having a great size
- 46 The phrase "stand up to" in paragraph 2 means....
A. Standing erect
B. Rise to an erect position
C. Support oneself
D. Be equally capable in strength and power
- 47 "Bring up" in paragraph 4 means...
A. Raise children or babies
B. Bring something from another place
C. Come closer to an object
D. Push something to a higher plane
- 48 They said, "They take exercise every day".
A. They said that they had taken exercise every day.
B. They said that they took exercise every day.
C. They said that they have taken exercise every day.
D. They said that they take exercise every day.
- 49 You'll need to study all night.....you want to pass tomorrow's test.
A. if B. for C. into D. to
- 50 Youthe shopping this morning.
A. does B. did C. do D. down

नेपाल नागरिक उड्डयन प्राधिकरण
प्रशासन सेवा, आर्थिक प्रशासन समूह, राजश्व उपसमूह, सातौं तह, बरिष्ठ अधिकृत पदको
नमूना प्रश्नपत्र

पत्र : द्वितीय

समय : १ घण्टा ३० मिनेट

विषय : विषयगत

पूर्णाङ्क ५०

- १ परिवर्तित सन्दर्भमा सार्वजनिक व्यवस्थापनमा समन्वयको महत्व र तरिकाहरु उल्लेख गर्नुहोस् । ५
- २ Vertical Organization Structure किन Flat Organization Structure भन्दा उपयुक्त मानिन्छ ? उल्लेख गर्नुहोस् । ५
- ३ व्यवस्थापनका नवीनतम शैली र प्रवृत्तिहरु के के हुन् ? सार्वजनिक व्यवस्थापनमा यिनको प्रभावहरु बारे चर्चा गर्नुहोस् । ४+६=१०
- ४ नीति विश्लेषण भनेको के हो ? नेपालको सन्दर्भमा नीति विश्लेषणलाई व्यवहारमा प्रभावकारी गराउन गर्नुपर्ने कार्यहरु के के हुन् ? उल्लेख गर्नुहोस् । ३+७=१०
- ५ Group र Team बीचको समानता तथा भिन्नता लेख्नुहोस् । Team ले प्रभावकारी रूपमा कार्य गर्नका लागि कुन कुन कुराहरुमा भरपर्दछ ? उल्लेख गर्नुहोस् । ५+५=१०
- ६ नयाँ सार्वजनिक व्यवस्थापनको अवधारणा विकसित हुनाका कारणहरु प्रष्ट पार्दै यसका प्रमुख विशेषताहरु लेख्नुहोस् । १०

नेपाल नागरिक उड्डयन प्राधिकरण
प्रशासन सेवा, आर्थिक प्रशासन समूह, राजश्व उपसमूह, सातौ तह, बरिष्ठ अधिकृत पदको
नमूना प्रश्नपत्र

पत्र : द्वितीय
समय : ३ घण्टा

विषय : सेवा सम्बन्धी

पूर्णाङ्क १००

१. लेखाका आधारभूत अवधारणा भित्र के के पर्दछन्? लेख्नुहोस् । ५
२. व्यवस्थापकीय लेखाका प्रमुख उपयोगिता उल्लेख गर्नुहोस् । ५
३. सन् १९९७ को दक्षिण-पूर्व एशियाली राष्ट्रको आर्थिक संकट विश्वको सन् २००७-२००९ को वित्तीय संकट आउनुमा व्यावसायिक संगठनको High Leverage Ratio लाई पनि देखाउने गरिन्छ, Leverage Ratio भनेको के हो ? यसको प्रकाश बारे व्याख्या गर्दै Leverage कसरी सिर्जना हुन्छ? यसको जोखिम कस्तो हुन्छ ? लेख्नुहोस् । १०
४. जिम्मेवारी लेखाकन (Responsibility Accounting) को परिचय दिँदै यसको महत्व माथि प्रकाश पार्नुहोस् । १०
५. वित्तीय नीति र मौद्रिक नीति भन्नाले कस्तो नीतिलाई बुझाउँदछ ? यस्ता नीतिको उद्देश्यहरु कस्ता हुन्छन्? के यी नीतिहरुले एक अर्कालाई हस्तक्षेप गर्दछन् ? लेख्नुहोस् । १०
६. वासलात बाहिरको कारोवार (Off Balance Sheet Transaction) भन्नाले के बुझिन्छ ? यस्ता कारोवारले संस्थाको वास्तविक अवस्था प्रतिविम्बित गर्न सक्छ, सक्दैन ? उल्लेख गर्नुहोस् । १०
७. नेपालले हाल अवलम्बन गर्दै आएको तीन खम्बे आर्थिक नीति अनुरूप सरकारी, निजी र सहकारी क्षेत्रले खेल्नुपर्ने भूमिका बारे विश्लेषणात्मक चर्चा गर्नुहोस् । १०
८. कार्य मूलक लेखापरीक्षण (Functional Audit) र व्यवस्थापन लेखापरीक्षण (Management Audit) बीच के भिन्नता छ ? यी लेखापरीक्षणबाट प्राप्त हुने जानकारीले के कस्तो विश्लेषणलाई सघाउ पुऱ्याउँछ ? स्पष्ट गर्नुहोस् । ५
९. कम्पनी ऐन २०६३ बमोजिम कम्पनीदर्ता गर्न प्रस्तुत गर्नुपर्ने मुख्य कागजात के के हुन् ? उल्लेख गर्नुहोस् । ५
१०. सार्वजनिक खरिद ऐनमा रहेको खरिद व्यवस्थापन सम्बन्धी समस्याहरु पहिल्याउँदै के कुन दफामा सुधार गर्नुपर्ला ? लेख्नुहोस् । १०
११. नेपाल नागरिक उड्डयन प्राधिकरणले आफ्नो बजेट तर्जुमा गर्दा ध्यान दिनुपर्ने प्रमुख पक्षहरुका बारेमा व्याख्या गर्दै बजेट नियन्त्रणलाई प्रभावकारी बनाउन चाल्नु पर्ने कदमहरुका बारेमा सुझाव दिनुहोस् । १०
१२. नेपाल नागरिक उड्डयन प्राधिकरणले संकलन गर्ने राजश्व र प्राधिकरणको कार्यक्रम संचालन गर्न आवश्यक स्रोत बीचको सामञ्जस्यताको अवस्था उल्लेख गर्दै प्राधिकरणको राजश्व वृद्धिका लागि के कस्ता रणनीति अवलम्बन गर्नुपर्ने ठान्नुहुन्छ ? उल्लेख गर्नुहोस् । १०

समाप्त