

नेपाल नागरिक उड्डयन प्राधिकरण
प्रशासन सेवा, प्रशासन समूह/उपसमूह, छैठौं तह, अधिकृत पदको
नमूना प्रश्नपत्र

पत्र : प्रथम (वस्तुगत बहुउत्तर, ५०×१=५०)
समय : ४५ मिनेट

विषय : सामान्य ज्ञान, बौद्धिक परीक्षण, अंग्रेजी भाषा क्षमता परीक्षण र व्यवस्थापन

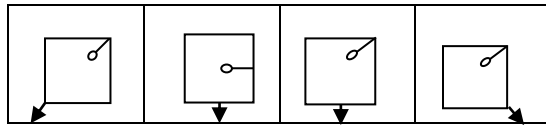
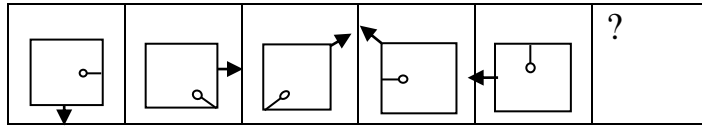
- १ नेपालको राष्ट्रिय भण्डाको तल्लो भागमा हुने सेतो आकारको सूर्यमा कति वटा कोण हुन्छन् ?
A. ८ B. १० C. १२ D. १४
- २ डायनोमो (Dynamo) ले के काम गर्छ ?
A. ताप उर्जालाई विद्युतिय उर्जामा बदल्छ
B. मेकानिकल उर्जालाई विद्युतिय उर्जामा बदल्छ
C. चुम्बकिय उर्जालाई विद्युतिय उर्जामा बदल्छ
D. केमिकल उर्जालाई विद्युतिय उर्जामा बदल्छ
- ३ व्यवस्थापिका संसदको निर्वाचनमा मतदान गर्न कति वर्ष पूरा भएको हुनुपर्दछ ?
A. १६ वर्ष B. १८ वर्ष C. २१ वर्ष D. २५ वर्ष
- ४ इराकको पुरानो नाम के हो ?
A जन्जीवार B रोडेसिया C कम्पुचिया D मेसोपेटामिया
- ५ ओजन तह क्षयीकरण गर्न कुन ग्यासको भूमिका छ ?
A क्लोरोफोरोकार्वन B कार्वनमनो अक्साइड
C कार्वनडाइ अक्साइड D मर्करिक अक्साइड
- ६ फ्रिक्वन्सी के मा नापिन्छ ?
A एम्पायर B हर्ज B वेभ D हर्सपावर
- ७ प्रतिलिपि अधिकार सम्बन्धि कार्य जिम्मेवारी कुन मन्त्रालय अर्न्तगत पर्दछ ?
A भूमि सुधार तथा व्यवस्था मन्त्रालय B गृह मन्त्रालय
C शिक्षा मन्त्रालय D संस्कृति पर्यटन तथा नागरिक उड्डयन मन्त्रालय
- ८ राष्ट्रिय जनगणना २०६८ अनुसार नेपालको जनघनत्व (प्रति वर्ग कि.मी) कति छ ?
A १५७ जना B १८० जना
C २०१ जना D २११ जना
- ९ जुफाल विमानस्थल कुन जिल्लामा पर्छ ?
A डोल्पा B हुम्ला
C जाजरकोट D रुकुम
- १० Bay of Bangle initiative for Multi-sectoral Technical and Economic Co-operation (BIMSTEC) को सचिवालय कुन देशमा छ ?
A थाइल्याण्डको बैकक B भारतको मुम्बई
C बंगलादेशको ढाका D म्यानमारको याङ्गुन

- ११ पृथ्वीनारायण शाहको जन्म कहिले भएको थियो ?
 A वि.सं. १७८० पुस २७ B वि.सं. १७७९ पुस २७
 C वि.सं. १७९९ पुस २७ D वि.सं. १८०१ पुस २७
- १२ इश्वरपुर नगरपालिका कुन जिल्लामा पर्छ ?
 A धनुषा B सिन्धुली
 C सप्तरी D सर्लाही
- १३ रामसार महासन्धि कहिले देखि लागू भयो ?
 A १९७४ डिसेम्बर २१ B १९७५ डिसेम्बर २१
 C १९७६ डिसेम्बर २१ D १९७७ डिसेम्बर २१
- १४ नेपालको वर्तमान संविधानमा कतिवटा मौलिक हकहरुको व्यवस्था गरेको छ ?
 A २५ वटा B २७ वटा
 C २९ वटा D ३१ वटा
- १५ ललितपुरको खोकना देखि बाराको निजगढसम्मको फास्ट ट्रयाकको लम्बाई कति छ ?
 A ७५ किलोमिटर B ७६ किलोमिटर
 C ७७ किलोमिटर D ७८ किलोमिटर
- १६ नेपाल सरकारले वायु प्रदुषण नियन्त्रण गर्न सवारी साधनमा हाल कुन अन्तर्राष्ट्रिय मापदण्ड लागू गरेको छ ?
 A युरो १ B युरो २
 C युरो ३ D युरो ४
- १७ नेपाल अंग्रेज बिच ३ मार्च १८१६ मा सम्पन्न सुगौली सन्धीमा नेपालका तर्फबाट हस्ताक्षर गर्ने राजा को थिए ?
 A रण बहादुर शाह B गिर्वाण युद्ध विक्रम शाह
 C राजेन्द्र विक्रम शाह D सुरेन्द्र विक्रम शाह
- १८ SAARC Tourism YEAR कहिले मनाइएको थियो ?
 A सन् २००५ B सन् २००७
 C सन् २०११ D सन् २०१२
- १९ नेपाल ICAO को सदस्य कहिले देखि भएको हो ?
 A २९ जुलाई १९६० B २९ जुलाई १९६५
 C २९ जुलाई १९६६ D २९ जुलाई १९७५
- २० विक्रम बाबा पवित्र तीर्थस्थल कुन जिल्लामा पर्दछ ?
 A चितवन B रोल्पा
 C महोत्तरी D सुर्खेत
- २१ नेपालको पहिलो पञ्चवर्षिय योजनाको कुल खर्च गर्ने लक्ष्य कति थियो ?
 A २३ करोड B ३३ करोड
 C ३२ करोड D ६० करोड

- २२ ने.ना.उ.प्रा. कर्मचारीहरुको सेवाका शर्त र सुविधा सम्बन्धी नियमावली, २०५६ अनुसार आचरण सम्बन्धि कुरा बराबर उलंघन गरेमा के सजाय हुन्छ ?
 A चेतावनी दिने B नसिहत दिने
 C बढुवा रोक्का गर्ने D सेवाबाट हटाउने
- २३ बाह्रौं दक्षिण एशियाली खेल (साग २०१६, भारत) मा नेपालले कुन खेलमा पदक जितेको थिएन ?
 A तेक्वान्दो B फुटबल
 C जुडो D धनुवाण
- २४ ग्रेट हिमालयन ट्रेल के सँग सम्बन्धित छ ?
 A जडिबुटी निर्यात गर्न B रेलमार्ग
 C . पदमार्ग D हिम रेखाको समानान्तर रेखा
- २५ अख्तियार दुरुपयोग अनुसन्धान आयोगका पहिला प्रमुख आयुक्तको थिए ?
 A . राधारमण उपाध्याय B भगवति प्रसाद सिंह
 C . अनिरुद्र प्रसाद सिंह D सुर्यनाथ उपाध्याय
- २६ भारतसंग भएको कोशी सम्झौताको बेला नेपालमा को प्रधानमन्त्री थिए ?
 A . मोहन शमशेर B टंक प्रसाद आचार्य
 C . मातृका प्रसाद कोइराला D विश्वेश्वर प्रसाद कोइराला
- २७ नेपालमा पर्यटन मन्त्रालयको स्थापना कहिले भएको हो ?
 A . २०३३ फागुन १२ B २०३३ कार्तिक २२
 C . २०३३ पुस १४ D २०३३ माघ १
- २८ अन्तर्राष्ट्रिय नागरिक उड्डयन दिवस कहिले मनाइन्छ ?
 A . अक्टोबर २० B नोभेम्बर २१
 C . डिसेम्बर १ D डिसेम्बर ७
- २९ WIPO को प्रधान कार्यालय कहाँ छ ?
 A न्यूयोर्क, अमेरिका B भियना, अष्ट्रिया
 C टोकियो, जापान D जेनेभा, स्वीट्जरल्याण्ड
- ३० बाह्रौं दक्षिण एशियन खेल (साग २०१६, भारत) मा नेपालकी महिला खेलाडी कस्ले उसुमाा स्वर्ण पदक जित्नु भएको थियो ?
 A फुपु लाम्हु शेर्पा B मनिता श्रेष्ठ प्रधान
 C लीला अधिकारी D नीमा घर्ती मगर
- 31 'Reading' is related to 'Knowledge' in the same way as 'Work' is related to :
 a. Money b. Engagement c. Employment d. Experience
- 32
- 33 If the TABLE is coded as UACMET in a certain language, then how is CAPSULE written in that code?
 a) BAORUKE b) DAQTUME c) BAQRUKE d) DAOTUME
- 34 Choose the word which is different from the rest.
 a) Anger b) Anxiety c) Feeling d) Joy

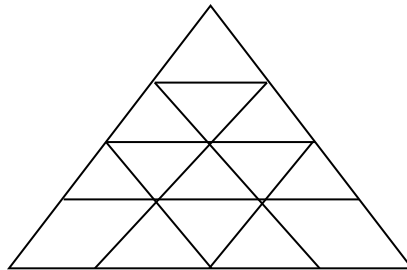
35 Find out the alternative which will replace the question mark.
 a) E b)N c) O d) T

36 Which figure should replace the question mark?



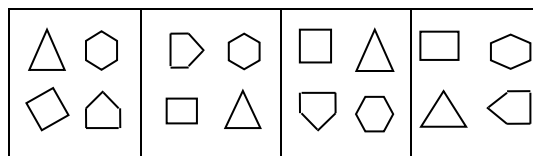
A B C D

37 What is the total number of triangles in the below grid?



A) 22 B) 23 C) 26 D) 27

38 Choose the figure which is different from the rest.



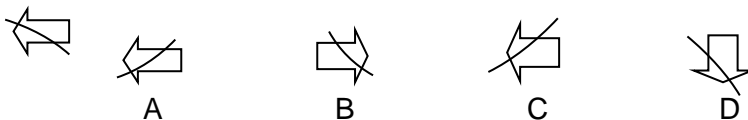
A B C D

39 What is missing number?

E	C	O
B	A	B
G	B	N
D	B	?

A) H B) T C) K D) E

40 Which is the correct image from the given four images?



- 41 Which statement is closest to the main idea expressed in the first paragraph?
A. that there are varieties of oaks
B. that trees like oaks are family trees
C. most people think that there is only one types of oak
D. the best kind of oak is found in Spain
- 42 By giving example of a kind of oak found in Spain, the writer proves...
A. there is soft oaks
B. oaks can be useful
C. cork manufacturing industry depends on oaks
D. our thinking of oaks as a hard wood is wrong
- 43 All the statements below are true, except...
A. there are varieties of oaks
B. oaks primarily grow in Northern part of the earth
C. oaks have muscles like human beings
D. steel is used nowadays as building material for which oaks were used in the past
- 44 The sentence "If we had to invent a new kind of timber it would be hard to think up anything better" means...
A. We cannot invent a new kind of timber
B. It is hard to think about a new timber
C. It is hard to find a better timber than oak
D. It's time that we better think of a new timber than oak
- 45 The closest meaning of the word "giant" in paragraph 1 is.....
A. legendary huge humanlike beings
B. a powerful living being
C. a being who has history and legend
D. strong and having a great size
- 46 The phrase "stand up to" in paragraph 2 means....
A. Standing erect
B. Rise to an erect position
C. Support oneself
D. Be equally capable in strength and power
- 47 "Bring up" in paragraph 4 means...
A. Raise children or babies
B. Bring something from another place
C. Come closer to an object
D. Push something to a higher plane
- 48 They said, "They take exercise every day".
A. They said that they had taken exercise every day.
B. They said that they took exercise every day.
C. They said that they have taken exercise every day.
D. They said that they take exercise every day.
- 49 You'll need to study all night.....you want to pass tomorrow's test.
A. if B. for C. into D. to
- 50 Youthe shopping this morning.
A. does B. did C. do D. down

नेपाल नागरिक उड्डयन प्राधिकरण
प्रशासन सेवा, प्रशासन समूह/उपसमूह, छैठौं तह, अधिकृत पदको
नमूना प्रश्नपत्र

पत्र : प्रथम

समय : १ घण्टा ३० मिनेट

विषयगत

५० अङ्क

- १ संगठनको उद्देश्य हासिल गर्न व्यवस्थापकले के-कस्तो भूमिका निर्वाह गर्नुपर्दछ ? चर्चा गर्नुहोस् ५
- २ नेपालमा प्रकोप व्यवस्थापनको प्रयोग कसरी गरिएको छ ? लेख्नुहोस् । ५
- ३ संगठनात्मक परिवर्तन गर्नुपर्दा आइपर्न सक्ने व्यवधानका कारणहरु के के हुन् ? संगठनात्मक परिवर्तनलाई सफल बनाउन के-कस्ता रणनीतिहरु प्रयोग गर्न सकिन्छ ? प्रष्ट पार्नुहोस् । ५+५=१०
- ४ अधिकार प्रत्यायोजन र अधिकार निक्षेपणको परिभाषा गर्दै सार्वजनिक व्यवस्थापनका सन्दर्भमा यिनको आवश्यकता र औचित्यबारे विवेचना गर्नुहोस् । ४+६=१०
- ५ समन्वयका लागि नियन्त्रण किन आवश्यक हुन्छ ? समन्वयले कर्मचारीहरुमा कार्य प्रति कसरी उत्प्रेरणा जगाउँदछ ? प्रकाश पार्नुहोस् । ५+५=१०
- ६ सार्वजनिक सेवालार्ई जनमूखी र उत्तरदायी बनाउन अवलम्बन गर्नुपर्ने विधिहरु उल्लेख गर्दै नेपालको सार्वजनिक सेवामा यसको अवस्थाको विवेचना गर्नुहोस् । १०

समाप्त

नेपाल नागरिक उड्डयन प्राधिकरण
प्रशासन सेवा, प्रशासन समूह/उपसमूह, छैठौं तह, अधिकृत पदको
नमूना प्रश्नपत्र

पत्र : द्वितीय
समय : ३ घण्टा

विषय : सेवा सम्बन्धी

पूर्णाङ्क १००

प्रत्येक खण्डको उत्तर छुट्टाछुट्टै उत्तरपुस्तिकामा लेख्नुपर्नेछ। अन्यथा उत्तरपुस्तिका रद्द हुनेछ।

खण्ड: क

५० अंक

- १ कार्यालय समयको लचकता (Flexi Time) का बारेमा व्याख्या गर्नुहोस् । ५
- २ सामाजिक न्याय भन्नाले के बुझिन्छ ? प्रष्ट पार्नुहोस् । ५
- ३ कार्य विवरण भन्नाले के बुझिन्छ ? कार्य विवरण किन आवश्यक पर्दछ ? चर्चा गर्नुहोस् । ५+५ = १०
- ४ नेपालको संविधानमा व्यवस्था भएका मौलिक हकहरु मध्ये महिलाको हक र बालबालिकाको हकका बारेमा चर्चा गर्नुहोस् । ५+५ = १०
- ५ सम्पूर्ण गुण व्यवस्थापन (Total Quality Management) को अवधारणा उल्लेख गर्नुहोस् । नागरिक उड्डयन प्राधिकरण जस्तो निकायमा यसको महत्व बुँदागत रुपमा प्रस्तुत गर्नुहोस् । १०
- ६ जनशक्ति व्यवस्थापन किन आवश्यक पर्दछ ? कार्यालयको प्रभावकारी संचालनको लागि जनशक्ति व्यवस्थापनका महत्व बारे उल्लेख गर्नुहोस् । ०

खण्ड: ख

५० अंक

- ७ चालु चौधौ योजनाको उद्देश्य हासिल गर्न लिइएका प्रमुख रणनीतिहरु उल्लेख गर्नुहोस् । ५
- ८ बजेट भनेको के हो ? यो कसरी निर्माण गरिन्छ ? लेख्नुहोस् । ५
- ९ देशको विकासमा सरकारी-निजी एवं सहकारी क्षेत्र बीचमा आपसी साभेदारी र सहकार्य कसरी प्रवर्द्धन गर्न सकिन्छ ? आफ्नो मौलिक विचार प्रस्तुत गर्नुहोस् । १०
- १० उपभोक्ता संरक्षण ऐन, २०५४ बमोजिम उपभोक्ताको हकहित संरक्षण गर्ने प्रयोजनका लागि प्रत्येक उपभोक्तालाई के-कस्ता अधिकार प्राप्त हुन्छन् ? उपभोग्य वस्तु वा सेवाको सम्बन्धमा के-कस्ता काम गर्न गराउन हुँदैन ? उल्लेख गर्नुहोस् । ५+५ = १०
- ११ खुला आकाश नीति भन्नाले के बुझिन्छ ? यो नीतिको आवश्यकता बारे चर्चा गर्नुहोस् । ४+६ = १०
- १२ नेपालको सार्वजनिक संस्थानको व्यवस्थापनले सामना गर्नु परेका चुनौतीहरुको चर्चा गर्दै समाधानका लागि आफ्नो सुझाव दिनुहोस् । १०